


ORMANIN ŞARKISI

Vedat gitarını alıp ormana gitti. Su kenarında oturup gitar çalmaya başladı. Bunu gören hayvanlar yanına toplandı. Vedat'a eşlik etmeye başladılar. Ağaçlar, yapraklarıyla ritim tuttu. Rüzgar, uğultusuyla şarkıya katıldı.



1. ve 2. soruları metne göre cevaplayalım.

1. Vedat gitar çalarken yanına kimler geldi?

- A. bitkiler
- B. hayvanlar
- C. insanlar

2. Ritim tutan aşağıdakilerden hangisidir?

- A. ağaçlar
- B. bitkiler
- C. rüzgar

3. "Ecem markete gitti."

Yukarıdaki cümleye göre Ecem nereye gitmiş?

- A. markete
- B. gitti
- C. bahçeye

4. Aşağıdaki cümlelerden hangisi "çok sinirlenmek" anlamında kullanılır?

- A. Burnundan solumak
- B. Etekleri tutuşmak
- C. Kulakları ağzında olmak

5.

Damla / Derya / ? / Doruk

Kutulardaki sözcükler sözlük sırasına göre dizilmiştir.

Buna göre "?" olan yere aşağıdakilerden hangisi gelmelidir?

- A. Duru
- B. Deniz
- C. Dilek

Soruya Gel



Yukarıdaki yıldızlarda yazılı olan sözcüklerden oluşturulabilecek kurallı ve anlamlı cümle için sıralama nasıl olmalıdır?

- A. 4 - 2 - 3 - 5 - 1
B. 3 - 2 - 1 - 4 - 5
C. 5 - 4 - 2 - 3 - 1

7. "Seda, yarın babasıyla Ankaraya gidecek."
Yukarıdaki cümlede hangi sözcüğün yazımı yanlıştır?

- A. babasıyla B. Seda
C. Ankaraya

8. Aşağıdaki sözcüklerden hangisi hecelerine yanlış ayrılmıştır?

- A. hanım-eli B. asla-nağzı
C. ara-lık

9.

Kan - Kon - Kor

Köle - Kale - Kare - ?

Yukarıda kırmızı renkle yazılmış kelimede ilk harf hariç, her defasında bir sonraki harfi değiştirerek yeni kelimeler üretilmiştir.

Buna göre "?" olan yere aşağıdakilerden hangis gelemez?

- A. Karo B. Kara C. Kene

10.



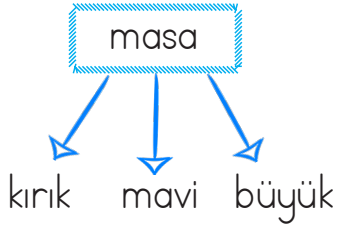
"Seda ile Emre frizbi oynuyorlardı. Seda uzundu, Emre de hızlıydı. O yüzden kimin kazanacağı belli değildi." metninde altı çizili olan sözcüklerin zıt anlamlıları sırasıyla hangi seçenekte verilmiştir?

- A. büyük - süratli
B. kısa - yavaş
C. şişman - koşma

11. Aşağıdaki cümlelerin hangisinde “yaş” sözcüğü farklı bir anlamda kullanılmıştır?

- A. Kaç yaşındasın?
- B. Yaş yere oturdu.
- C. Akıl yaşıta değil baştadır.

12.




Yukarıdakilerden hangisinde varlığın rengi belirtilmiştir?

- A. masa
- B. kırık
- C. mavi

13. “Meliha, arı gibi çalışıyordu.” cümlesinde, aşağıdaki sorulardan hangisinin cevabı yoktur?

- A. Nasıl?
- B. Kim?
- C. Ne zaman?

14.



Yukarıdaki resimden bir parça kesilmiştir.

Aşağıdakilerden hangisi kesilen parçadır?

- A.
- B.
- C.

Soruya Gel

15.

1. Resim

K	İ	T	A	P
Blue	Green	Yellow	Pink	Dark Blue

2. Resim

Yellow	Pink	Blue	Green	Dark Blue

?

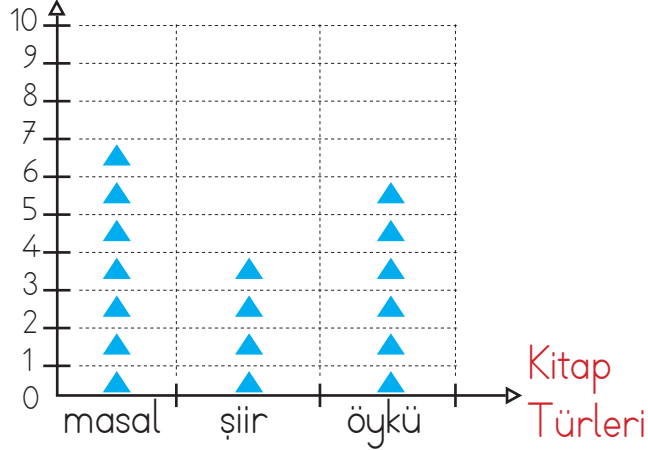
Yukarıdaki birinci resimde her harf, bir rengi ifade etmektedir. Buna göre 2. resimdeki kelime aşağıdakilerden hangisidir?

- A. TAKİP
- B. PATİK
- C. KATİP

Grafik: En Çok Sevilen Kitap Türlerinin Öğrenci Sayıları

Öğrenci

Sayısı



Not: Her ▲, 2 öğrenciyi göstermektedir.

İlk 5 soruyu yukarıda verilenlere göre çözelim.

1. Yukarıdaki grafiği gösteren sıklık tablosu aşağıdakilerden hangisidir?

A.

Masal	14
Şiir	8
Öykü	12

B.

Masal	7
Şiir	4
Öykü	6

C.

Masal	6
Şiir	7
Öykü	4

2. Masal sevenlerle şiir sevenler arasındaki fark kaçtır?

A. 3 B. 6 C. 9

3. Üç kitap türünü de seven öğrencilerin sayıları toplamı kaçtır?

A. 17 B. 25 C. 34

Soruya Gel

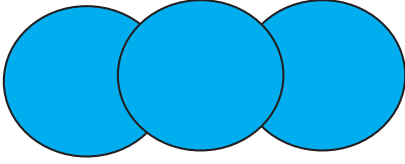
4. Öykü ve şiir sevenlerin sayısının eşit olması için öykü sevenlerden kaç kişinin şiir tercih etmesi gerekir?

A. 3 B. 1 C. 2

5. Aşağıdakilerden hangisi 8 kişi tarafından sevilmektedir?

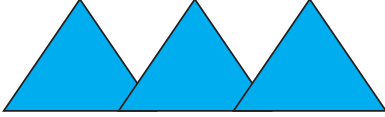
A. şiir
B. masal
C. öykü

6.

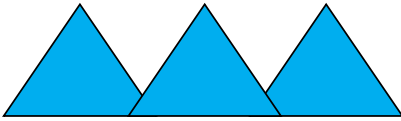


Aşağıdakilerden hangisi yukarıdaki şekille ilişkilendirilebilir?

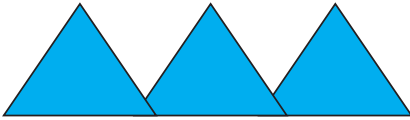
A.



B.















C.



8.

Hava Olayları Grafiği

Güneşli	    
Bulutlu	  
Yağmurlu	   

Her şekil 2 günü göstermektedir.

Buna göre yağmurlu olmayan gün sayısı bulutlu gün sayısından kaç gün fazladır?

A. 10

B. 12

C. 5

9. Aşağıdaki örneklerden hangisinin tamamı standart olmayan ölçü birimidir?

A.



Metre, parmak, kulaç

B.



Karış, adım, ayak

C.



Santimetre, adım, karış

10. Aşağıdakilerden hangisi en küçük kağıt paramızdır










A. 1 lira

B. 5 lira

C. 10 lira

Soruya Gel

7.

Yukarıdaki tablo belli bir kurala göre oluşturulmuştur. Bu kurala göre "?" yerine hangisi gelmelidir?

A.



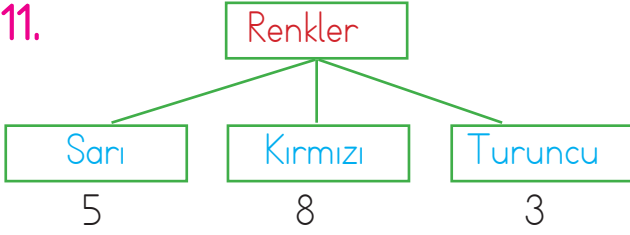
B.



C.



11.



Yukarıda öğrencilerin sevdiği renklerin tablosu verilmiştir.

En çok sevilen renk ile en az sevilen renk arasındaki fark kaçtır?

- A. 3 B. 5 C. 2

12.



Cebimde 2 tane 10 lira, 3 tane 5 lira var.

Sevim cebindeki paranın miktarını söylemiştir.

Sevim cebindeki parayla kaç tane 5 liralık çikolata alabilir?

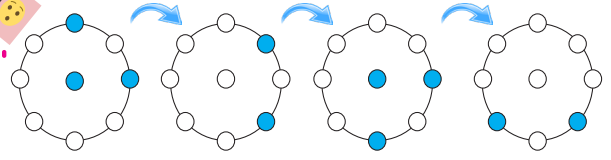
- A. 6 B. 7 C. 8

13. Yandaki ürünü almak için kaç tane 5 lira gerekir?

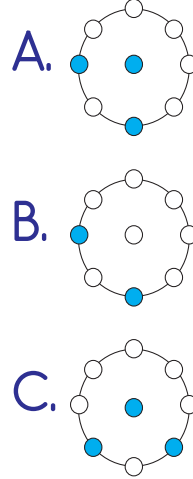


- A. 7 B. 8 C. 9

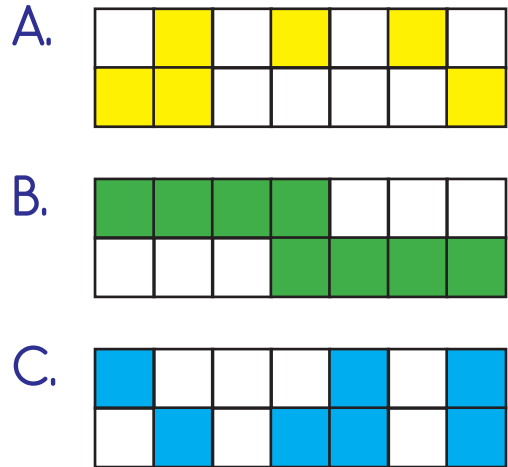
14.



Yukarıdaki örüntü devam ettirilirse bir sonraki şekil yerine aşağıdakilerden hangisi gelir?






15. Aşağıdakilerden hangisi bir kesrin yarısını ifade eder?



1. Doğal çevreyi korumak isteyen biri aşağıdakilerden hangisini yapar?

- A. Denizlere çöp atmak
- B. Ağaçları kesmek
- C. Geri dönüşüme destek olmak

2. Aşağıdakilerden hangisi bir yönüyle diğerlerinden farklıdır?

- A. 
- B. 
- C. 

3.

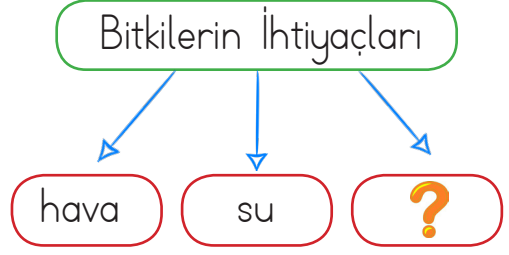


Çevresinde tarım yapılamadığı için nüfus ve yerleşim azdır.

Servet'in bahsettiği doğal unsur aşağıdakilerden hangisidir?

- A. dağ
- B. ova
- C. akarsu

4.



Yukarıdaki tabloda soru işareti (?) yerine hangisi gelemez?

- A. toprak
- B. meyve
- C. ışık

5.



Yukarıdakilerden kaç tanesinin geri dönüşümü sağlanabilir?

- A. 3
- B. 4
- C. 5

6. Aşağıdakilerden hangisi geri dönüşüm işaretidir?



7. Aşağıdakilerden hangisi geri dönüşüm ile ilgili değildir?

- A. Enerji tasarrufu sağlar.
- B. Ekonomiye katkı sağlar.
- C. Çevre kirliliğine neden olur.


8. Aşağıdaki bilgilerden hangisi yanlıştır?

- A. Dini bayramlarda büyüklerimizin elini öperiz.
- B. Dini bayramlar dayanışmayı güçlendirir.
- C. Dini bayramlarda sınıfı süsleriz.

9.

rüzgar	dağ	köprü
baraj	tünel	ova

Tabloda doğal unsurlar boyandığında oluşan şekil aşağıdakilerden hangisidir?



10. Aşağıdakilerden hangisi dini bayramlarımızdan değildir?

- A. Ramazan Bayramı
- B. Kurban Bayramı
- C. Zafer Bayramı